

המכילה

מוכנות לחשבון מכולת

מיומנויות מתורגלות והראות המשחק:

התאמה חד חד/ רב ערכית - כל משתתף בתורו מחלק כמות מסוימת של פירות / ירקות מסוג כלשהו לשאר המשתתפים (למשל: אפשר לבקש שיחלק תפוח אחד לכל משתתף או לחלופין 3 גזרים לכל אחד מהמשתתפים).

מנייה - משתתף אחד מתפקד כקונה ואחר כמוכר. הקונה מבקש כמויות מסוימות של ירקות ופירות ועל המוכר להעביר לו ירקות ופירות בכמות זו.

התאמת כמות למספר - משתתף אחד מתפקד כקונה ואחר כמוכר. הקונה כותב ספרה על דף (ללא דיבור) תוך הצבעה על הפרי/ ירק שבו הוא מעוניין. על המוכר להבין מהי הספרה הכתובה ולהביא לקונה את הירק / פרי שהוא ביקש בכמות זו.

השוואת כמויות - ניתן לבקש ממשתתפים כמויות שונות של ירקות ופירות ולאחר מכן להשוות ביניהן. ניתן לתרגל עם / בלי סימני השוואה.

הבנת משמעות החיבור והחיסור - ניתן לבקש ממשתתף כמות מסוימת של פרי/ ירק ולאחר מכן לבקש להוסיף או להפחית ממנו כמות מסוימת (בעל פה).

המלצה:

מומלץ לניילן את הפירות והירקות הגזורים ולהדביק על צידם השני סקוצ' נצמד או מגנטים, זאת בהתאם למשטח המשחק עליו תרצו לשחק - לוח המתאים להדבקת סקוצ'ים / לוח מגנטי / דלת או משטח מגנטי אחר.

שאלות מילוליות מכולת

מיומנויות מתורגלות:

הבנה חשבונית והבנת משמעות פעולות החשבון
הבנת הנקרא / הנשמע (תלוי אם משחקים בעל פה או עם הכרטיסיות)
תרגול פעולות החשבון
תרגול מיומנות מהיומיום - ביקור במכולת, קנייה ומכירה

הוראות המשחק:

גרסה 1 - בעל פה
משתתף אחד מגלם את תפקיד המוכר והאחרים את תפקיד הקונים (ניתן להחליף תפקידים תוך כמה תורות).
המוכר כותב את מחירי הפירות והירקות במחירון.
הקונה בוחר מספר ירקות ופירות כרצונו.
המוכר מחשב את סכום הפירות והירקות שנבחרו ואומר אותו לקונה.
הקונה מעביר את התשלום הנחוץ למוכר בעזרת המטבעות והשטרות.
המוכר בודק אם התשלום מדויק או שמא נמוך או גבוה מהנחוץ.
במידת הצורך המוכר מחזיר עודף לקונה ועל הקונה לוודא שהעודף מדויק.








גרסה 2 - כרטיסיות
המשתתפים בוחרים כרטיסיות עם שאלות (עם או בלי ניקוד).
כל משתתף קורא את השאלה שלו,
הוא יכול להעזר בפירות ובירקות וכן במטבעות ובשטרות כדי להמחיש את השאלה ולהבין אותה טוב יותר.
עליו להבין באיזו פעולת חשבון מדובר, לכתוב תרגיל מתאים ולפתור אותו, וכן לכתוב תשובה מלאה לשאלה.

המלצה:








מומלץ לניילן את הפירות והירקות והמטבעות והשטרות הגזורים ולהדביק על צידם השני סקוצ' נצמד או מגנטים, זאת בהתאם למשטח המשחק עליו תרצו לשחק - לוח המתאים להדבקת סקוצ'ים / לוח או משטח מגנטי אחר (דלת וכו').

המבוקלת



מחירון








עיצוב חינוך










עיצוב חינוך











עיצוב חינוך



עיצוב חינוך



עיצוב חינוך





50 !

20 !

50 !

20 !

50 !

20 !

50 !

20 !

50 !

20 !

50 !

20 !

50 !

20 !

עיצוב חינוך

200 !

100 !

200 !

100 !

200 !

100 !

200 !

100 !

200 !

100 !

200 !

100 !

200 !

100 !

חיבור וחיסור (ללא כסף)

תום רצה להכין עוגת תפוחים. במתכון
היה כתוב לקלף 10 תפוחים. לתום יש
רק 7 תפוחים. כמה תפוחים חסרים לו?

תרגיל: _____
תשובה: _____

לאדם היו 5 תפוחים.
הוא נתן 3 מהם לרותי.
כמה תפוחים נשארו לאדם?

תרגיל: _____
תשובה: _____

חנה הכינה סלט פירות - היא חתכה 3
תפוחים, בננה אחת ו-5 תותים.
כמה פירות חנה שמה בסלט הפירות?

תרגיל: _____
תשובה: _____

רן קטף 6 תפוזים מהעץ.
אחותו קטפה עוד 3.
כמה תפוזים קטפו יחד?

תרגיל: _____
תשובה: _____

רמי ודן קטפו פירות שדה. רמי קטף 9
תותים, ודן קטף 6 בננות.
כמה פירות רמי ודן קטפו בסך הכל?

תרגיל: _____
תשובה: _____

יעל הלכה למכולת וקנתה 5 אגסים,
3 לימונים ו-6 תפוחים.
כמה פירות קנתה יעל בסך הכל?

תרגיל: _____
תשובה: _____

בן קנה 9 אגסים, אך בדרך לבית
השקית נקרעה ו-2 אגסים נאבדו.
כמה אגסים נשארו לבן?

תרגיל: _____
תשובה: _____

רון רצה להכין סלט. הוא חתך 2
עגבניות, 3 מלפפונים ובצל אחד.
כמה ירקות רון שם בסלט בסך הכל?

תרגיל: _____
תשובה: _____

בארגז יש 5 חצילים, 2 בצלים, 4
מלפפונים ו-3 גזרים.
כמה ירקות יש בארגז בסך הכל?

תרגיל: _____
תשובה: _____

על עץ הלימון צמחו 7 לימונים.
2 מהם נפלו על האדמה.
כמה לימונים נשארו על העץ?

תרגיל: _____
תשובה: _____

חיבור וחיסור (עם כסף)

ריקי קנה בצל ב-3 שקלים
וגזר ב-2 שקלים.
מהו הסכום שריקי צריך לשלם?

תרגיל: _____
תשובה: _____

רן קנה ירקות ופירות ב-36 שקלים.
הוא הביא למוכר 40 שקלים.
כמה עודף עליו לקבל?

תרגיל: _____
תשובה: _____

דריה נתנה למוכרת 20 שקלים.
המוכרת החזירה לה עודף 4 שקלים.
מהו הסכום שהיה על דריה לשלם?

תרגיל: _____
תשובה: _____

לירז קנתה תפוח ב-3 שקלים, בננה ב-2
שקלים וחציל ב-4 שקלים.
מהו הסכום שלירז צריכה לשלם?

תרגיל: _____
תשובה: _____

לטל היו 50 שקלים.
הוא שילם במכולת 46 שקלים.
כמה שקלים נשארו לטל?

תרגיל: _____
תשובה: _____

ניר קנה פירות ב-22 שקלים
וירקות ב-41 שקלים.
כמה שילם ניר בסך הכל על הקניות?

תרגיל: _____
תשובה: _____

חן וגל הלכו למכולת.
חן שילם 7 שקלים וגל שילם 12 שקלים.
כמה שילמו חן וגל יחד?

תרגיל: _____
תשובה: _____

שיר קנתה פירות וירקות ב-59 שקלים.
היא הביאה למוכר 100 שקלים.
כמה עודף עליה לקבל?

תרגיל: _____
תשובה: _____

לשי היו 30 שקלים.
היא שילמה 15 שקלים במכולת.
כמה שקלים נשארו לשי?

תרגיל: _____
תשובה: _____

גור הלך למכולת עם שטר של 50
שקלים. הוא קנה ירקות ב-34 שקלים.
כמה עודף עליו לקבל?

תרגיל: _____
תשובה: _____

כפל וחילוק (ללא כסף)

בסופר 3 ארגזים.
בכל ארגז 3 חצילים.
כמה חצילים יש בכל הארגזים יחד?

תרגיל: _____
תשובה: _____

במכולת 3 מדפים.
על כל מדף 4 בננות.
כמה בננות על כל המדפים?

תרגיל: _____
תשובה: _____

לסאם היו 10 תותים.
הוא חילק אותם שווה בשווה ל-5 שקיות.
כמה תותים בכל שקית?

תרגיל: _____
תשובה: _____

למימי 8 תפוחים.
היא חילקה אותם שווה בשווה בין 4
חבריה. כמה תפוחים קיבל כל חבר?

תרגיל: _____
תשובה: _____

3 ילדים אספו תפוזים בפרדס.
כל ילד אסף 4 תפוזים.
כמה תפוזים אספו הילדים יחד?

תרגיל: _____
תשובה: _____

לקרן היו 6 אגסים, אותם היא חילקה
שווה בשווה בין 2 חברותיה.
כמה אגסים קיבלה כל חברה?

תרגיל: _____
תשובה: _____

לרון 8 עגבניות. הוא חילק אותן שווה
בשווה בין 2 קופסאות. כמה עגבניות
בכל קופסה?

תרגיל: _____
תשובה: _____

בסופר 3 קופסאות עם תותים.
בכל קופסה 4 תותים.
כמה תותים בכל הקופסאות יחד?

תרגיל: _____
תשובה: _____

במכולת 5 שקיות.
בכל שקית 2 גמבות צהובות.
כמה גמבות יש בכל השקיות יחד?

תרגיל: _____
תשובה: _____

בשדה 3 עצי לימונים.
על כל עץ צמחו 3 לימונים.
כמה לימונים צמחו על כל העצים יחד?

תרגיל: _____
תשובה: _____

כפל וחילוק (עם כסף)

4 חברות קנו פירות וירקות ב-32 שקלים.
הם חילקו את התשלום שווה בשווה
ביניהן. כמה שילמה כל חברה?

תרגיל: _____
תשובה: _____

אסף קנה 6 בננות.
כל בננה עולה 2 שקלים.
מהו הסכום שאסף צריך לשלם?

תרגיל: _____
תשובה: _____

ניב קנה 6 גזרים ו-3 בצלים.
מחיר גזר הוא 2 שקלים, מחיר הבצל 4
שקלים. מהו הסכום ששילם ניב?

תרגיל: _____
תשובה: _____

גלעד קנה 8 מלפפונים ו-2 עגבניות.
מחיר כל מלפפון 3 שקלים, וכל עגבניה
4 שקלים. מהו הסכום ששילם גלעד?

תרגיל: _____
תשובה: _____

סאן, גיל ורם קנו ירקות ב-27 שקלים.
הם חילקו את התשלום שווה בשווה בין
שלושתם. כמה שילם כל אחד?

תרגיל: _____
תשובה: _____

המוכרת מכרה 7 גזרים. מחיר כל גזר 2
שקלים. כמה הרוויחה המוכרת ממכירת
הגזרים?

תרגיל: _____
תשובה: _____

חגית קנתה 3 גזרים ו-2 עגבניות. מחיר
מלפפון 4 שקלים, מחיר עגבניה 5
שקלים. כמה חגית שילמה בסה"כ?

תרגיל: _____
תשובה: _____

3 חברים קנו פירות ב-30 שקלים.
הם חילקו את התשלום שווה בשווה
ביניהם. כמה כל חבר שילם?

תרגיל: _____
תשובה: _____

מני קנה 10 תותים.
מחיר כל תות 2 שקלים.
מהו הסכום ששילם מני על התותים?

תרגיל: _____
תשובה: _____

טליה קנתה 8 גמבות.
מחיר כל גמבה 3 שקלים.
כמה שילמה טליה על כל הגמבות?

תרגיל: _____
תשובה: _____

חיבור וחיסור (ללא כסף)

תם רצה להכין עוגת תפוחים. במתכון
היה כתוב לקלף 10 תפוחים. לתם יש
רק 7 תפוחים. כמה תפוחים חסרים לו?

תרגיל: _____
תשובה: _____

לאדם היו 5 תפוחים.
הוא נתן 3 מהם לרותי.
כמה תפוחים נשארו לאדם?

תרגיל: _____
תשובה: _____

חנה הכינה סלט פרות - היא חתכה 3
תפוחים, בננה אחת ו-5 תותים.
כמה פרות חנה שמה בסלט הפרות?

תרגיל: _____
תשובה: _____

רון קטף 6 תפוזים מהעץ.
אחותו קטפה עוד 3.
כמה תפוזים קטפו יחד?

תרגיל: _____
תשובה: _____

רמי ודן קטפו פרות שדה. רמי קטף 9
תותים, ודן קטף 6 בננות.
כמה פרות רמי ודן קטפו בסך הכל?

תרגיל: _____
תשובה: _____

יעל הלכה למכלת וקנתה 5 אגסים,
3 לימונים ו-6 תפוחים.
כמה פרות קנתה יעל בסך הכל?

תרגיל: _____
תשובה: _____

בן קנה 9 אגסים, אך בדרך לבית
השקית נקרעה ו-2 אגסים נאבדו.
כמה אגסים נשארו לבן?

תרגיל: _____
תשובה: _____

רון רצה להכין סלט. הוא חתך 2
עגבניות, 3 מלפפונים ובצל אחד.
כמה ירקות רון שם בסלט בסך הכל?

תרגיל: _____
תשובה: _____

בארגז יש 5 חצילים, 2 בצלים, 4
מלפפונים ו-3 גזרים.
כמה ירקות יש בארגז בסך הכל?

תרגיל: _____
תשובה: _____

על עץ הלימון צמחו 7 לימונים.
2 מהם נפלו על האדמה.
כמה לימונים נשארו על העץ?

תרגיל: _____
תשובה: _____

חיבור וחיסור (עם כסף)

ריקי קנה בצל ב-3 שקלים
 וגזר ב-2 שקלים.
 מהו הסכום שריקי צריך לשלם?

תרגיל: _____
 תשובה: _____

רן קנה ירקות ופרות ב-36 שקלים.
 הוא הביא למוכר 40 שקלים.
 כמה עדיף עליו לקבל?

תרגיל: _____
 תשובה: _____

דריה נתנה למוכרת 20 שקלים.
 המוכרת החזירה לה עדיף 4 שקלים.
 מהו הסכום שהיה על דריה לשלם?

תרגיל: _____
 תשובה: _____

לירז קנתה תפוח ב-3 שקלים, בננה ב-2 שקלים וחסיל ב-4 שקלים.
 מהו הסכום שלירז צריכה לשלם?

תרגיל: _____
 תשובה: _____

לטל היו 50 שקלים.
 הוא שלם במכלת 46 שקלים.
 כמה שקלים נשארו לטל?

תרגיל: _____
 תשובה: _____

ניר קנה פרות ב-22 שקלים
 וירקות ב-41 שקלים.
 כמה שלם ניר בסך הכל על הקניות?

תרגיל: _____
 תשובה: _____

חן וגל הלכו למכלת.
 חן שלם 7 שקלים וגל שלם 12 שקלים.
 כמה שלמו חן וגל יחד?

תרגיל: _____
 תשובה: _____

שיר קנתה פרות וירקות ב-59 שקלים.
 היא הביאה למוכר 100 שקלים.
 כמה עדיף עליה לקבל?

תרגיל: _____
 תשובה: _____

לשי היו 30 שקלים.
 היא שלמה 15 שקלים במכלת.
 כמה שקלים נשארו לשי?

תרגיל: _____
 תשובה: _____

גור הלך למכלת עם שטר של 50 שקלים.
 הוא קנה ירקות ב-34 שקלים.
 כמה עדיף עליו לקבל?

תרגיל: _____
 תשובה: _____

כפל וחילוק (ללא כסף)

בסופר 3 ארנזים.
בכל ארנז 3 חצילים.
כמה חצילים יש בכל הארנזים יחד?

תרגיל: _____
תשובה: _____

במכלת 3 מדפים.
על כל מדף 4 בננות.
כמה בננות על כל המדפים?

תרגיל: _____
תשובה: _____

לסאם היו 10 תותים.
הוא חלק אותם שווה בשווה ל-5 שקיות.
כמה תותים בכל שקית?

תרגיל: _____
תשובה: _____

למימי 8 תפוחים.
היא חלקה אותם שווה בשווה בין 4
חבריה. כמה תפוחים קבל כל חבר?

תרגיל: _____
תשובה: _____

3 ילדים אספו תפוזים בפרדס.
כל ילד אסף 4 תפוזים.
כמה תפוזים אספו הילדים יחד?

תרגיל: _____
תשובה: _____

לקרן היו 6 אגסים, אותם היא חלקה
שווה בשווה בין 2 חברותיה.
כמה אגסים קבלה כל חברה?

תרגיל: _____
תשובה: _____

לרון 8 עגבניות. הוא חלק אותן שווה
בשווה בין 2 קפסאות. כמה עגבניות בכל
קפסה?

תרגיל: _____
תשובה: _____

בסופר 3 קפסאות עם תותים.
בכל קפסה 4 תותים.
כמה תותים בכל הקפסאות יחד?

תרגיל: _____
תשובה: _____

במכלת 5 שקיות.
בכל שקית 2 גמבות צהבות.
כמה גמבות יש בכל השקיות יחד?

תרגיל: _____
תשובה: _____

בשדה 3 עצי לימונים.
על כל עץ צמחו 3 לימונים.
כמה לימונים צמחו על כל העצים יחד?

תרגיל: _____
תשובה: _____

כפל וחילוק (עם כסף)

4 חברות קנו פרות וירקות ב־32 שקלים.
הם חלקו את התשלום שווה בשווה ביניהן.
כמה שלמה כל חברה?

תרגיל: _____
תשובה: _____

אסף קנה 6 בננות.
כל בננה עולה 2 שקלים.
מהו הסכום שאסף צריך לשלם?

תרגיל: _____
תשובה: _____

ניב קנה 6 גזרים ו־3 בצלים.
מחיר גזר הוא 2 שקלים, מחיר הבצל 4
שקלים. מהו הסכום ששלם ניב?

תרגיל: _____
תשובה: _____

גלעד קנה 8 מלפפונים ו־2 עגבניות.
מחיר כל מלפפון 3 שקלים, וכל עגבניה
4 שקלים. מהו הסכום ששלם בסה"כ?

תרגיל: _____
תשובה: _____

סאן, גיל ורם קנו ירקות ב־27 שקלים.
הם חלקו את התשלום שווה בשווה בין
שלשתם. כמה שלם כל אחד?

תרגיל: _____
תשובה: _____

המוכרת מכרה 7 גזרים. מחיר כל גזר 2
שקלים. כמה הרויחה המוכרת ממכירת
הגזרים?

תרגיל: _____
תשובה: _____

חגית קנתה 3 גזרים ו־2 עגבניות. מחיר
מלפפון 4 שקלים, מחיר עגבניה 5
שקלים. כמה חגית שלמה בסה"כ?

תרגיל: _____
תשובה: _____

3 חברים קנו פרות ב־30 שקלים.
הם חלקו את התשלום שווה בשווה
ביניהם. כמה כל חבר שלם?

תרגיל: _____
תשובה: _____

מני קנה 10 תותים.
מחיר כל תות 2 שקלים.
מהו הסכום ששלם מני על התותים?

תרגיל: _____
תשובה: _____

טליה קנתה 8 גמבות.
מחיר כל גמבה 3 שקלים.
כמה שלמה טליה על כל הגמבות?

תרגיל: _____
תשובה: _____